

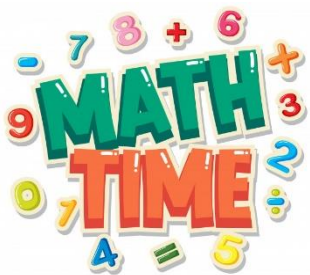
МАТЕМАТИКА

8 С клас

# Додавання і віднімання іменованих чисел



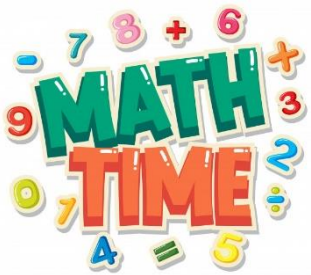
*Підготувала:  
вчитель математики  
Гливка Н. Ю.*



# Розминка

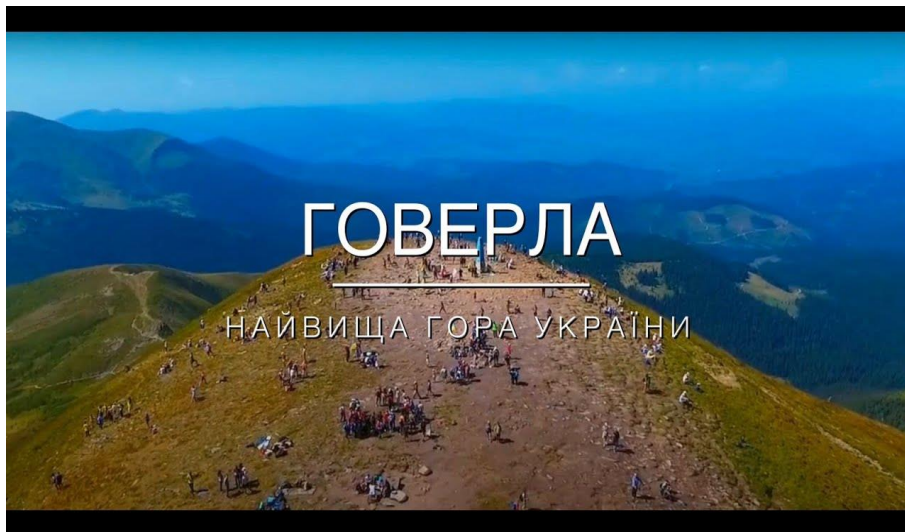
---

	$a=2500$	$a=33100$	$a=652000$
$a+10$			
$a:100$			
$a \cdot 10$			
$a-10$			



# Одиниці вимірювання

---

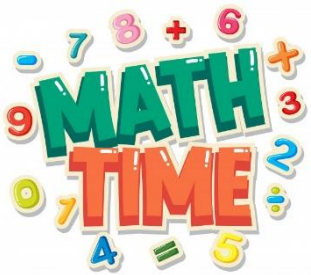


2061 м

Просте іменоване число

2 км 61 м

Складене іменоване число



# Робота в зошиті

---

Запишіть у порядку спадання:

1001 г; 52 кг; 20 ц; 10 г; 5 т; 1 кг

5 т; 20 ц; 52 кг; 1001 г; 1 кг; 10 г

Запишіть у порядку зростання:

1 дм; 2 км; 5 см; 2 мм; 1000 м;

2 мм; 5 см; 1 дм; 1000 м; 2 км

Треба купити 42607 кг дині та 9523 кг кавуна

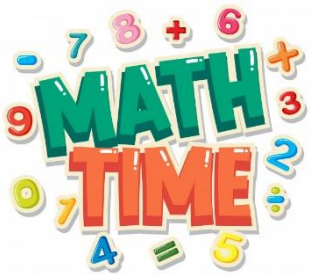
$$\begin{array}{r} 42607 \text{ кг} \\ + 9523 \text{ кг} \\ \hline 52130 \text{ кг} \end{array}$$

Мій робот рахує лише тонами та кілограмами

**OMG!**

$$\begin{array}{r} 42 \text{ т } 607 \text{ кг} \\ + 9 \text{ т } 523 \text{ кг} \\ \hline 51 \text{ т } 1130 \text{ кг} \\ 52 \text{ т } 130 \text{ кг} \end{array}$$

Без паніки!  
 Гугл каже, що можна додавати 2 способами



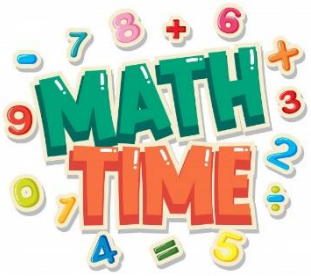
# Задача

---

Висота Говерли 2 км 65 м, а Роман – Кош – 1 км 560 м.

- 1) Яка загальна висота двох гір?
- 2) На скільки метрів гора Говерла вища за гору Роман – Кош?





# Геометричне завдання

---

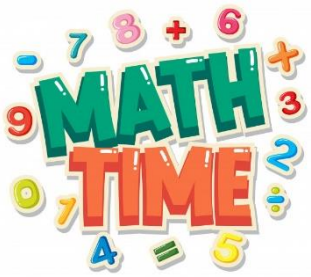
- Накреслити 1 відрізок довжиною 3 см 6 мм, другий – 6 см 2 мм.

*1 варіант*

Знайти різницю  
довжин цих  
відрізків

*2 варіант*

Знайти суму  
довжин цих  
відрізків



▶ Оцінюю свої зміни

**Закінчи речення.**

На уроці я дізнався/дізналася про ... .

Мені було цікаво, що ... .

Мене засмутило те, що ... .

Я хочу більше знати про ... .

**Д/З**

**Працюю самостійно:**

стор. 117, вправа 4; 6